

# 台北市立誠正國民中學 107 學年度第一學期第三次定期考查七年級歷史科試卷

## 【一】選擇題(每題 2.5 分)

1. 清朝曾統治臺灣 200 多年，歷經了 8 位皇帝。請問：第一位及最後一位統治臺灣的清朝皇帝分別是？ (A)康熙、咸豐 (B)康熙、同治 (C)乾隆、道光 (D)康熙、光緒。
2. 在清領前期臺灣的教育機構中，哪一種學校設立在偏遠地區，可以提供原住民受教育的機會？ (A)義學 (B)書院 (C)府學 (D)社學。
3. 劉銘傳在臺灣的歷史上，扮演著相當重要的角色。關於劉銘傳在臺灣的建設，下列敘述何者「正確」？ (甲)調整行政區域為二府一州 (乙)重新丈量土地 (丙)架設臺灣第一條電報線 (丁)在淡水設立牛津學堂 (A)甲乙丙 (B)乙丙 (C)乙 (D)丁。
4. 臺北市大龍峒保安宮，位於臺北市大同區。保安之名有「保佑同安」的意思。廟宇的建築相當具有特色，不僅是國定古蹟，更獲得聯合國教科文組織亞太區文物古蹟保護獎的殊榮。關於這座寺廟的信仰，下列敘述何者「正確」？ (A)祭祀的是開漳聖王 (B)是漳州人主要供奉的神明 (C)為臺灣各族群共同的信仰 (D)信奉者多來自中國大陸的福建省。
5. 清領前期，從中國大陸渡海來臺的漢人移民，以哪兩個省分的人士最多？ (A)廣東、廣西 (B)福建、山東 (C)廣東、福建 (D)廣東、浙江。
6. 阿民是劉銘傳治臺時期生活在臺北的居民，下列哪些是他會遇到的生活經驗？ (A)利用八堡圳來灌溉農田 (B)搭乘火車前往臺中觀光 (C)以電報與福州的親戚聯絡感情 (D)聽聞馬雅各在淡水免費替人拔牙。
7. 清領時期，臺灣地區「三年一小反，五年一大亂」，這種社會亂象與下列何者有密切關係？ (A)原住民反抗清朝 (B)外國勢力介入臺灣政治 (C)清廷積極的治臺政策 (D)結盟風氣盛行、會黨眾多。
8. 臺灣歷史上，發生過許多次反抗統治者的事件： (甲)郭懷一事件 (乙)戴潮春事件 (丙)朱一貴事件 (丁)林爽文事件 請按照先後順序排列：(A)甲乙丙丁 (B)乙丙丁甲 (C)甲丙丁乙 (D)甲丙乙丁。
9. 承上題，關於這些民變，下列敘述何者「正確」？ (A)林爽文事件發生在乾隆年間，是規模最大的抗官事件 (B)戴潮春事件後，臺灣增設了彰化縣、淡水廳 (C)郭懷一事件後，荷蘭人更加善待漢人 (D)朱一貴事件後，諸羅縣改名為嘉義縣。
10. 下列關於「牡丹社事件」的敘述，何者「正確」？ (A)是清領前期與清領後期的劃分 (B)使臺灣納入日本的版圖 (C)清廷治臺政策轉為消極 (D)清廷派沈葆楨建設臺灣。
11. 臺灣民間有「三月瘋媽祖，四月迎王爺」的習俗，傳統宗教信仰在臺灣人民生活中，已經成為不可或缺的一部分。請問：有關媽祖的信仰，下列敘述何者「正確」？ (A)是漳州人的原鄉信仰 (B)是客家人的獨特信仰 (C)是泉州人的原鄉信仰 (D)不分族群的共同信仰。
12. 清朝治理臺灣時期，發生過許多重大事件。若依照時間排列，何者「正確」？

甲	開港通商
乙	臺灣建省
丙	廢除渡臺禁令
丁	興建臺北~新竹鐵路

- (A)甲乙丙丁 (B)甲丙乙丁 (C)乙丙甲丁 (D)甲丙丁乙。
13. 小瑜正在整理清領時期，臺灣著名的人物。請問：哪些人物可以歸類在清領後期？ (甲)瑠公圳的建造者郭錫瑠 (乙)大稻埕茶商李春生 (丙)八卦會領袖戴潮春 (丁)蛤仔難的開墾者吳沙 (戊)來臺治理的官員丁日昌 (A)甲乙丙 (B)乙丙丁 (C)甲乙戊 (D)乙丙戊。
  14. 關於清領前期與清領後期的貿易情況，哪些敘述是「正確」的？ (甲)清領前期，貿易的港口是一府二鹿三艋舺 (乙)清領後期，商人組成「郊」，會將商品賣至全世界 (丙)清領後期，臺灣進口的貨物主要是軍火與紡織品 (丁)臺灣在 1878 年之後，貿易呈現「出超」 (A)甲乙丙丁 (B)甲丁 (C)乙丙 (D)甲乙。
  15. 小華是清領後期來到臺灣的漢人，下列哪些事情是他可能看到的情況？ (甲)在大稻埕看到許多女性在從事撿茶的工作 (乙)聽聞馬雅各在臺南成立醫館的事情 (丙)在鹿港看到外國人忙著將茶葉裝箱賣至國外 (丁)臺灣人的讀書風氣不好，羅漢腳到處遊晃 (A)甲乙丙 (B)甲乙 (C)丙 (D)甲丁。
  16. 清領前期，在漢人與原住民之間，畫了一條「土牛界線」。這條界線被哪一個人廢除了？ (A)沈葆楨 (B)丁日昌 (C)劉銘傳 (D)邵友濂。
  17. 清同治年間，日本藉口「懲辦凶手」而出兵臺灣，最後中、日雙方簽訂和約。這件事情結束之後，清朝也失去了哪一個藩屬國的宗主權？ (A)越南 (B)臺灣 (C)印尼 (D)琉球。
  18. 臺灣建省之後的第一位巡撫是何人？ (A)劉銘傳 (B)沈葆楨 (C)丁日昌 (D)邵友濂。
  19. 光緒 7 年，如果在今天的彰化一帶發生了暴動，處理事件的長官應該是哪一地區的長官？ (A)臺北府 (B)臺灣府 (C)

臺中府 (D)臺南府。

20. 鹿港有一處清領時期的「隘門」古蹟，具有防禦功能。這種建築，主要與下列哪一件事相關？ (A)民變 (B)械鬥 (C)政變 (D)抵禦外國人入侵。
21. 清領時期高雄人王大華到省城參加鄉試，第一次他搭船到福州考試，結果落榜；第二次他則在臺北參加考試，最後順利通過考試。請問：王大華第二次考試地點的改變，與哪一件事情有關係？ (A)戴潮春事件 (B)英法聯軍 (C)牡丹社事件 (D)中法戰爭。
22. 某一種宗族組織是由有血緣關係的同姓者所組成的，且祭祀費用是由祖產中撥出一部分作為公費。請問：這個組織的名稱為何？ (A)天地會 (B)宗親會 (C)開臺祖 (D)唐山祖。
23. 清朝治理臺灣的態度轉向積極，主要是因為哪一個國家攻打臺灣的關係？ (A)日本 (B)法國 (C)荷蘭 (D)美國。
24. 臺灣早期有許多諺語：(甲)唐山過臺灣，心肝結歸丸 (乙)一個某，卡贏三個天公祖 (丙)紅柿上樹頭，羅漢腳目屎流 (丁)六死三留一回頭 請問：哪些是形容先民渡過臺灣海峽的艱辛？ (A)甲乙丙丁 (B)甲乙丙 (C)甲乙 (D)甲丁。
25. 臺灣開港通商後，來臺傳播的宗教中，主要以哪一個教派對臺灣的影響最重要？ (A)天主教 (B)耶穌會 (C)長老教派 (D)路德教派。
26. 小芬在整理清領時期的資料，看到了一張臺灣建設示意圖，如圖(一)所示。由圖中的內容判斷，當時清朝實施此項建設的目的為何？ (A)強化臺灣的軍事防務 (B)促進西部交通的順暢 (C)達到開山撫番的效果 (D)增加臺灣的財政收入。



圖(一)

## 【二】題組(每題 2.5 分)

(一)誠正國中舉辦校外教學，這次的主題是臺南、高雄古蹟考察巡禮。

27. 第一站來到臺南市的赤崁樓。赤崁樓的前身是荷蘭人所興建的哪一座城堡？ (A)紅毛城 (B)普羅民遮城 (C)熱蘭遮城 (D)聖多明哥城。
28. 赤崁樓古蹟前，有一排因紀念平定清領前期的民變而樹立的石碑。請問：這些石碑與哪一場亂事最有關聯？ (A)郭懷一事件 (B)朱一貴事件 (C)林爽文事件 (D)戴潮春事件。
29. 第二站來到了「億載金城」：



圖(二)

- 請問：億載金城的出現，主要是因為哪一個歷史事件的發生？ (A)林爽文事件 (B)牡丹社事件 (C)英法聯軍 (D)中法戰爭。
30. 承上題，建設億載金城的是哪一位官員？ (A)沈葆楨 (B)丁日昌 (C)劉銘傳 (D)沈有容。
31. 接著來到了安平區的一棟歐式洋房，如下圖：



圖(三)

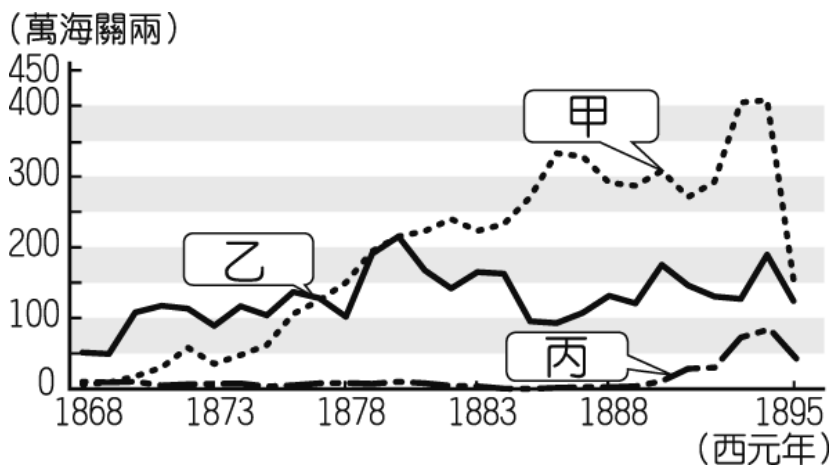
- 老師說，這是在某一件歷史事件後，出現在臺灣的商業公司。請問：這棟建築物的出現，和哪一件事情有關？ (A)施琅打敗鄭克塽 (B)荷蘭人開始統治臺灣 (C)牡丹社事件 (D)臺灣開港通商。
32. 第二天的行程，來到了高雄。老師先介紹了一條水圳，這一條水圳引用了高屏溪，是清領時期高雄相當重要的水圳。請問：這條水圳是 (A)瑠公圳 (B)曹公圳 (C)八堡圳 (D)貓霧揀圳。
33. 接著來到了高雄著名的旗后炮臺，這個防禦南臺灣重要的炮臺，是由何人所興建的？ (A)丁日昌 (B)劉銘傳 (C)邵友濂 (D)沈葆楨。

(二)圖(四)是臺灣重要港口分布圖，請回答下列問題：



圖(四)

34. 清領後期，臺灣開放哪些港口，讓外國人來貿易？ (A)乙丙丁 (B)甲乙丙丁 (C)甲丙丁己 (D)甲乙丁戊。
35. 圖(五)是清領時期臺灣進出口值統計圖，請依據圖表回答下列問題：



圖(五)

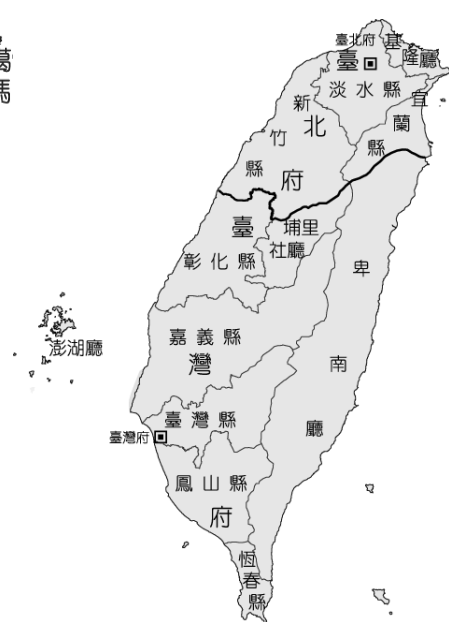
圖(五)中的甲、乙、丙分別是代表什麼商品？ (A)甲：樟腦，乙：糖，丙：茶 (B)甲：糖，乙：樟腦

- 丙：茶 (C)甲：茶，乙：樟腦，丙：糖 (D)甲：茶，乙：糖，丙：樟腦。
36. 乙主要由圖(四)中的哪些港口出口？ (A)甲乙 (B)丁戊 (C)乙丙 (D)甲己。
37. 清領後期，臺灣的哪一項商品產量達到世界第一？ (A)鴉片 (B)蔗糖 (C)茶葉 (D)樟腦。

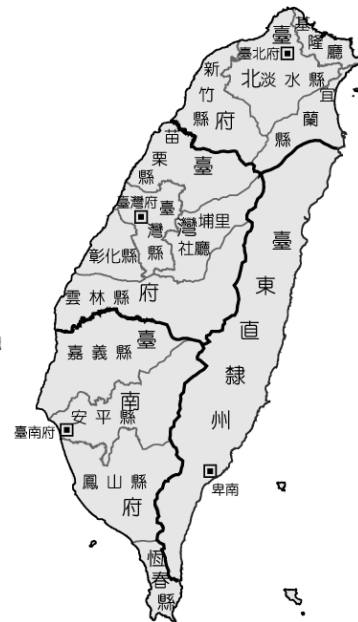
(三)下列地圖是清領時期行政區域演變圖，請依圖回答下列問題：



圖(六)



圖(七)



圖(八)

38. 從圖(六)轉變到圖(七)，是與哪一件事有關？ (A)朱一貴事件 (B)臺灣開港通商 (C)中法戰爭 (D)牡丹社事件。
39. 從圖(七)轉變到圖(八)，是與哪一件事有關？ (A)吳沙開墾東部 (B)臺灣開港通商 (C)中法戰爭 (D)牡丹社事件。
40. 臺灣地區隸屬於福建省管理，是哪一個圖？ (A)圖六、圖七、圖八 (B)圖六、圖七 (C)圖七、圖八 (D)圖八。